

令和 7 年度

給付特待チャレンジ入試 (12 月 15 日) 入学試験問題

日本史

(注意事項)

1. 解答は、すべて別紙の解答用紙（マークシート）に記入してください。
2. 試験開始後、解答用紙（マークシート）の所定欄に正しく氏名と受験番号を記入し、
受験番号のマークもしてください。
3. 筆記用具は、HBの濃さの鉛筆、またはシャープペンシルを使用してください。
ボールペンやサインペン、色の薄い鉛筆は使わないでください。
万一使用した場合には、正常に採点できないことがあります。
4. 試験開始後、解答用紙（マークシート）の注意事項をよく読んでください。

問題 1 ある学校では、「日本史探究」の授業において、班に分かれて遺跡や遺物など考古資料の発掘に関する文献や資料を調べた。次のA班、B班、C班が調べた資料と会話文を読み、設問（問1～問11）に答えよ。

A班

A班では、貝塚の発掘に関する資料Aを入手し、班のメンバーで意見を出し合った（会話文A）。

資料A

横浜に上陸して数日後、初めて東京へ行った時、線路の切割に貝殻の堆積があるのを、通行中の汽車の窓から見て、私は即座にこれが本当の Kjoekkenmoedding（貝虚）だと認識した。私はメイン州の海岸で貝塚を沢山研究したから、ここにある物の性質もすぐ認めた。

……（略）……我々は東京から六哩の（ア）まで汽車に乗り、それから築堤までの半哩は、線路を歩いて行った。……（略）……我々は手で掘って、ころがり出した砕岩を検査し、そして 珍奇な形の陶器を沢山と、細工した骨片を三個と、不思議な焼いた粘土の小平一枚とを採集した。

引用：石川欣一訳『日本その日その日』講談社、2013、p.140-142.（講談社学術文庫、2178）

会話文A

かおる この資料Aは、学校図書館で見つけた文献だよ。アメリカ人動物学者が貝塚を発掘したときの日本滞在録だね。この貝塚は、縄文時代の（イ）の貝塚だよね。

わたる そうそう、（ウ）に来日した学者だったね。3度にわたって日本を訪れ、陶器や民具資料などをアメリカに持ち帰り、日本文化を広めていたことでもよく知られているよ。この貝塚から出土した土器に縄目文様があったことから、この学者が報告書に「Cord Marked Pottery」と記したんだよね。

さちこ でもよく知られているのは、この貝塚は、日本で初めて 科学的方法による発掘であったことだよ。

としお 貝塚は、当時のごみ捨て場だったけど、土器や石器なども出土し、この時代の生活を調べる手がかりになっているね。

問1 資料Aの空欄（ ア ）にあてはまる地名について、最も適切なものを、次の①～④のうちから1つ選べ。解答番号欄は

- ① 横須賀 ② 市川 ③ 大森 ④ 新橋

問2 会話文Aの空欄（ イ ）にあてはまる時代と、資料Aの下線部aの出土土器に関する説明の組み合わせとして最も適切なものを、次の①～④のうちから1つ選べ。解答番号欄は

- ① イ 前期から中期 — 朝鮮半島伝来の製法による灰色で硬質の土器
 ② イ 前期から中期 — 甕、壺、高杯などの器形に分化した土器
 ③ イ 後期から晩期 — 土瓶形（急須形）や香炉形の注口土器
 ④ イ 後期から晩期 — 装飾性に富んだ炎の燃えるような形の火炎土器

問3 会話文Aの空欄（ ウ ）にあてはまる年について、最も適切なものを、次の①～④のうちから1つ選べ。解答番号欄は

- ① 1543 年 ② 1639 年 ③ 1877 年 ④ 1889 年

問4 会話文Aの下線部bについて、現在行われている方法に関する説明のうち、最も適切なものを、次の①～④のうちから1つ選べ。解答番号欄は

- ① 年輪年代法とは、加速器を利用して微量の炭素 14 の量を測定する方法であり、精度の高い測定が可能になったが、大気中の炭素 14 の量が一定ではないため、他の方法で補正されている。
 ② 炭素 14 年代法とは、地中や土器に混ぜられていた花粉の種類を走査電子顕微鏡で観察し、植物を特定する方法である。
 ③ AMS 法とは、樹木の年輪の幅が気候の変化に応じて毎年異なることを利用して測定する絶対年代測定法のひとつである。
 ④ 放射性炭素年代測定法とは、生物遺体に残存する放射性炭素 14 の量を測定する方法であり、縄文時代や弥生時代の開始が従来まで考えられていた年代より大幅にさかのぼるという調査結果が議論をよんでいる。

B班

B班では、遺物の発掘に関する資料Bを入手し、班のメンバーで意見を出し合った（会話文B）。

資料B

山寺山にのぼる細い道の近くまできて、赤土の断面に目を向けたとき、私はそこに見なれな
いものが、なかば突きささるような状態で見えているのに気がついた。近寄って指をふれて
みた。指先で少し動かしてみた。ほんの少し赤土がくずれただけでそれはすぐに取れた。そ
れを目の前に見たとき、私は危うく声をだすところだった。じつにみごとというほかない、
黒曜石の槍先形をした石器ではないか。完全な形をもった石器なのであった。われとわが^c
目を疑った。考える余裕さえなくただ茫然として見つめるばかりだった。

「ついに見つけた！定形石器、それも槍先形をした石器を。この赤土の中に……」

……（略）……

もう間違いない。赤城山麓の赤土（関東ローム層）のなかに、土器をいまだ知らず、石器
だけを使って生活した祖先の生きた跡があったのだ。ここにそれが発見され、ここに最古^d
の土器文化よりもっともっと古い時代の人類の歩んできた跡があったのだ。

引用：『「岩宿」の発見：幻の旧石器を求めて』講談社、1973、p. 176-177.（講談社文庫）

会話文B

たける この資料Bは、地元の公共図書館に所蔵していた文献だよ。独学で考古学を学んだ
人物が発掘したんだよね。まさに在野の考古学者だった……。

とおる そうそう、確かこの遺跡があるのは（エ）だよ。この文献の195ページによ
ると、これまでの発掘では、関東ローム層が出てくると地盤が出たとか、地山だと
言って発掘をやめてしまっていたのが考古学上での常識だったみたいだね。

みわこ 先週の日本史の授業で、文字を使用する前の時代、文字による資料のない時代を
「先史時代」と先生が言っていたね。文字を使用していない歴史資料からどのよ
うな過去の事実を知ることができるのか……でも、文字の有り無しで時代を区分す
ることは、人類の歴史の多様性を考慮しないものとする批判もあるみたいね。

問5 資料Bの下線部cに関する説明として、誤っているものを、次の①～④のうちから1つ選べ。解答番号欄は

- ① 尖頭器は、ナイフ形石器と同じように手槍や投槍の先端につけられ、石槍とも呼ばれた。ナウマンゾウやオオツノジカなどの大型動物の狩猟に用いられていた。
- ② アスファルトは、熱して石鏃などの接着のほか、破損土器の補修などに利用された。秋田県、山形県などで産出され、アスファルト付着の遺物の分布から当時の交易状況がわかる。
- ③ 旧石器時代の後期になると、長さ3-4cm程度の小石器（細石刃）を木や骨の柄に埋め込んだ細石器が槍などとして使用されていた。
- ④ 黒曜石は、ガラス質で打製石器の製作に適し、北海道の白滝、長野県の和田峠、新潟県の姫川など60ヶ所以上の原産地が確認されている。

問6 資料Bの下線部dに関する時代の説明のうち、誤っているものを、次の①～④のうちから1つ選べ。解答番号欄は

- ① 旧石器時代の遺跡は1万ヶ所をこえるが、主な遺跡として、例えば早水台遺跡、野尻湖立ヶ鼻遺跡などがある。
- ② 地質学的には完新世にあたる氷河期には日本列島に人類が住んでいないという考えが定説であったが、この発掘により、土器の利用を知る以前の文化の存在が明らかになった。
- ③ 一般的に考古学においては、打製石器を用い狩猟や採集を中心とする時代を旧石器時代とよび、磨製石器が用いられ、土器の利用、家畜の飼育、農耕を特徴とする新石器時代と区分されている。
- ④ 在野の考古学者が1946年に打製石器を発掘し、1949年の学術調査により確認され、旧石器文化の存在が初めて明らかになった。

問7 会話文Bの空欄（エ）にあてはまる都県名として、最も適切なものを、次の①～④のうちから1つ選べ。解答番号欄は


- ① 群馬県 ② 栃木県 ③ 埼玉県 ④ 東京都

問8 会話文Bの下線部eに関して、文字を使用していない歴史資料の説明のうち、誤っているものを、次の①～④のうちから1つ選べ。解答番号欄は

- ① 木製農具である平鍬・広鍬、鋤、木臼、竪杵などのほか、稲穂をつみ取る半円形石器の石包丁、田下駄や田舟などが水稲耕作で用いられた。
- ② 七支刀は、刀身の左右に3本ずつ、合計6枝を互い違いに出している両刃の剣である。特異な形をした鉄製であるが、武器ではなく、祭祀などに用いられたと推測される。
- ③ 沖縄県具志頭村（現在の八重瀬町）で4体分以上の人骨（港川人）が出土した。
- ④ 土偶は、人間をかたどった土製品であり、収穫の豊かさや集団の繁栄を祈願する呪術的風習があったと考えられる。

C班では、遺跡の発掘に関する資料Cを入手し、班のメンバーで意見を出し合った（会話文C）。

資料C



午王山遺跡だより

Vol.1
2022.5.13

「午王山遺跡だより」を発行いたします！

令和2年3月10日付けで国の史跡に指定された「午王山遺跡」に関する情報を提供するツールとして、「午王山遺跡だより」を発行いたします。

今後、「午王山遺跡だより」で午王山遺跡に関する各種お知らせを掲載していきますので、よろしくお願いいたします。

「午王山遺跡」はどんな遺跡？

国の史跡に指定された午王山遺跡は弥生時代後期の（オ）として知られています。ここでは午王山の主な特徴をご紹介します。

①独立丘に営まれた集落

周辺から独立した丘の全面に集落が展開されていました。地形が大きな特徴です。

②関東では類例の少ない多重（オ）



弥生時代の一時期は（カ）と呼ばれる溝に集落が囲われていました。（カ）は複数あり、関東では類例の少ない同時性が確認できる多重（オ）と考えられています。

③遠隔地との交流

午王山遺跡からは長野や静岡方面など、3つの異なる系統の特徴を持つ土器等が確認されています。これらのことから北と南のルートの結節点であったと考えられています。

④竪穴住居跡の平面形態の変遷

住居の形（隅丸方形・楕円形・小判形など）から文化的な特徴を確認できます。

午王山遺跡空中写真（2019年撮影）

午王山遺跡遺構分布図

引用：和光市教育委員会生涯学習課文化財保護担当編『午王山遺跡だより』Vol.1, 2022.5.13,

p.1.（出題のため設問空欄部分を改変）

会話文C

まもる このチラシ（資料C）は近所の公民館で手に入れたよ。市の Web ページにも掲載されていて、もう7号まで刊行されているみたい。

みやこ そうそう、^f 弥生時代後期の遺跡みたいね。和光市初の国指定の史跡に指定されたんだって。現地での発掘現場見学会のほかに、発掘された土器などの展覧会も市民文化センターで開催されたんだよね。

えつこ 期間中は5,000人以上の来場者だったみたいね。まさに、地域全体で歴史資料を保存し、歴史を考え、学びあい、そして次の世代へ継承していくことが大切だと痛感するよ。

はるき 確かに江戸幕府の成立や明治新政府など、いわば新たな公権力の出現という政治的な指標によって新しい時代のはじまりとなるけど、旧石器時代、縄文時代、弥生時代^gは主に遺跡や遺物などの考古資料をもとに、新しい時代のはじまりや年代を推定しているんだよね。

問9 資料Cの空欄（オ）（3箇所とも）と（カ）（2箇所とも）にあてはまる語句の組み合わせとして最も適切なものを、次の①～④のうちから1つ選べ。解答番号欄は

9

- ① オ 高地性集落 — カ 土塁
- ② オ 拠点集落 — カ 土塁
- ③ オ 環濠集落 — カ 環濠
- ④ オ 惣村 — カ 環濠

問10 会話文Cの下線部fに関する遺跡の説明のうち、最も適切なものを、次の①～④のうちから1つ選べ。解答番号欄は

- ① 静岡県に登呂遺跡は、1952年に国の特別史跡に指定された。住居跡や高床式倉庫跡、水路・水田跡も確認されたほか、木製農具なども出土した。
- ② 秋田県の大湯環状列石は、1956年に国の特別史跡に指定された大規模な遺跡である。円形に石を並べた同心円状の配石遺構が2ヵ所あるほか、内側には立石をともなった集石があり、集団墓であるとともに、葬祭や祭祀にかかわる遺跡とされている。
- ③ 青森県の三内丸山遺跡は、2000年に国の特別史跡に指定された。大集落の遺跡であり、大型掘立柱建物や大型竪穴住居の建物跡が確認され、多数の石器、土器なども出土した。
- ④ 青森県の砂沢遺跡から出土した土器や石器などは、2000年に国の重要文化財に指定された。東日本最古の水田跡とされ、稲作を導入しながらも、出土遺物から狩猟採集も同時に行われていたことがうかがえる。

問11 会話文Cの下線部gに関する説明のうち、最も適切なものを、次の①～④のうちから1つ選べ。解答番号欄は

- ① 縄文文化が日本列島全域に及んだのに対して、弥生文化は、沖縄などの南西諸島には及んだものの北海道には及ばず、漁労や狩猟を展開する続縄文文化が続いた。
- ② 縄文文化では、縄文という文様をもつ土器が多いが、弥生文化では、赤褐色で模様がみられない土師器や、硬質で灰色の須恵器が多くみられるようになった。
- ③ 縄文文化では、打製石器による狩猟のほか、漁労、採集が中心であったが、弥生文化では、水稻耕作を基礎とする農耕文化が形成され、磨製石器の使用や、食料を盛りつける石皿なども用いられた。
- ④ 縄文文化では、死者の四肢を折り曲げて葬る屈葬が一般的であったが、弥生文化では、土坑墓、木棺墓、箱式石棺墓などに伸展葬したものが多い。

問題2 次の文章を読み、設問（問1～問11）に答えよ。

1272（文永9）年に後嵯峨法皇が死去した後、天皇家は後深草上皇の流れをくむ持明院統と（ア）天皇の流れをくむ大覚寺統にわかれて、皇位の継承や天皇家領荘園群の相続などをめぐって争った。1318（文保2）年、大覚寺統から即位した後醍醐天皇は、積極的に天皇の権限強化を推し進め、皇位継承を決する幕府を打倒しようと計画するが密告により失敗し、1332（元弘2）年に隠岐に流された。しかし、皇子護良親王や河内国の（イ）らは、悪党などの反幕勢力を結集して蜂起した。こうしたなかで、有力御家人であった足利高氏（のち尊氏）も幕府に背いて、1333（元弘3）年に（ウ）を攻め落とした。関東で挙兵した（エ）も鎌倉を攻め落とし、鎌倉幕府は滅亡した。

京都に戻った^a後醍醐天皇は、光厳天皇を排して新しい政治を始めた。しかし、天皇中心の新政策は、それまで武士の社会につくられていた慣習を無視していたため、多くの武士の不满を引き起こし社会の停滞をまねいた。そのような情勢の中、幕府の再建を目指していた^b足利尊氏は1335（建武2）年、^c中先代の乱の鎮圧を名目に関東に下り、京都の建武政権に反旗をひるがえした。

1336（建武3）年、京都を制圧した足利尊氏は、持明院統の光明天皇を立て、^d建武式目を定めた。一方、後醍醐天皇は、京都から（オ）にのがれて支配の正当性を主張した。ここに二つの朝廷が対立し、^e南北朝の動乱がはじまった。

この動乱が長期化した背景に^f惣領制の解体があった。幕府は地方武士を動員するために、^g守護の権限を大幅に拡大した。一方、地頭などの領主で当時国人と呼ばれた地方在住の武士たちは自らの領主権を守るため、^h国人一揆を結成することもあった。

問1 文中空欄（ア）・（イ）にあてはまる語句の組み合わせとして最も適切なものを、

次の①～④のうちから1つ選べ。解答番号欄は

12

- ① ア 亀山 — イ 赤松則村
- ② ア 後小松 — イ 楠木正成
- ③ ア 亀山 — イ 楠木正成
- ④ ア 後小松 — イ 赤松則村

問2 文中空欄（ウ）・（エ）にあてはまる語句の組み合わせとして最も適切なものを、

次の①～④のうちから1つ選べ。解答番号欄は

- ① ウ 鎮西探題 — エ 北条高時
- ② ウ 六波羅探題 — エ 新田義貞
- ③ ウ 鎮西探題 — エ 新田義貞
- ④ ウ 六波羅探題 — エ 北条高時

問3 下線部aに関する、以下の文X・Yについて、その正誤の組み合わせとして最も適切なものを、次の①～④のうちから1つ選べ。解答番号欄は

X すべての土地所有権の確認には天皇の綸旨が必要と定め、天皇への権限集中をはかった。

Y 中央には記録所や雑訴決断所などを設置し、諸国には国司と守護を併置した。

- ① X—正 Y—正
- ② X—正 Y—誤
- ③ X—誤 Y—正
- ④ X—誤 Y—誤

問4 下線部bに関する、以下の文X・Yについて、その正誤の組み合わせとして最も適切なものを、次の①～④のうちから1つ選べ。解答番号欄は

X 後醍醐天皇の死後、その菩提を弔うため天龍寺を創建した。

Y 『増鏡』は、足利尊氏の幕府創立を中心に記述された歴史書である。

- ① X—正 Y—正
- ② X—正 Y—誤
- ③ X—誤 Y—正
- ④ X—誤 Y—誤

問5 下線部cに関する、足利尊氏と建武政権との主な戦いを歴史的に古い順に並べたものとして、最も適切なものを、次の①～④のうちから1つ選べ。解答番号欄は

- ① 竹ノ下の戦い → 湊川の戦い → 多々良浜の戦い
- ② 竹ノ下の戦い → 多々良浜の戦い → 湊川の戦い
- ③ 多々良浜の戦い → 湊川の戦い → 竹ノ下の戦い
- ④ 多々良浜の戦い → 竹ノ下の戦い → 湊川の戦い

問6 下線部dに関する、以下の文X・Yについて、その正誤の組み合わせとして最も適切なものを、次の①～④のうちから1つ選べ。解答番号欄は

X 全17カ条にまとめられた。

Y これ以降の追加法は認められなかった。

- ① X—正 Y—正
- ② X—正 Y—誤
- ③ X—誤 Y—正
- ④ X—誤 Y—誤

問7 文中空欄（オ）にあてはまる語句として最も適切なものを、次の①～④のうちから1つ選べ。解答番号欄は

- ① 吉野 ② 鎌倉 ③ 隠岐 ④ 室町

問8 下線部eに関する時期に起こった出来事のうち、誤っているものを、次の①～④のうちから1つ選べ。解答番号欄は

- ① 征夷大將軍に任じられた足利尊氏は、弟の足利直義と政務を分担する二頭政治を行った。
- ② 北畠親房は常陸国小田城で北朝方と対戦しながら、『神皇正統記』を執筆した。
- ③ 1350年（観応元年）に起こった観応の擾乱により幕府側は分裂したが、これにより南北朝の動乱は終結に向かった。
- ④ 懷良親王は征西大將軍として九州へ下向し大宰府を占拠し、一時九州全土を制圧したが、九州探題に就任した今川了俊（貞世）によって大宰府を追われ、九州の南朝勢力は衰退した。

問9 下線部 f に関する、以下の文 X・Y について、その正誤の組み合わせとして最も適切なものを、次の①～④のうちから 1 つ選べ。解答番号欄は

X 家の相続においては、単独相続よりも分割相続が一般的になった。

Y 武家社会では、地縁的結合よりも血縁的結合が重視されるようになった。

- ① X—正 Y—正
- ② X—正 Y—誤
- ③ X—誤 Y—正
- ④ X—誤 Y—誤

問10 下線部 g に関する記述のうち、最も適切なものを、次の①～④のうちから 1 つ選べ。解答番号欄は

- ① 他人の持つ田畑の作物を実力で刈り取り奪う行為である段銭徴収を取り締まる権限が与えられた。
- ② 土地争論に関する幕府の判決を強制執行する刈田狼藉の権限が与えられた。
- ③ 1352 年（観応 3 年）に出された半済令は当初から、全国のかつ恒久的な法令であった。
- ④ 荘園や公領の年貢徴収・納入を請け負う、守護請も盛んに行われた。

問11 下線部 h に関する、以下の文 X・Y について、その正誤の組み合わせとして最も適切なものを、次の①～④のうちから 1 つ選べ。解答番号欄は

X 守護による支配への抵抗や自立する惣村への抑圧など、利害が一致する者同士で地縁的結合を形成した。

Y 誓紙に署名・加判する際、参加者の平等性を示すため傘連判と呼ばれる独自の方法が用いられた。

- ① X—正 Y—正
- ② X—正 Y—誤
- ③ X—誤 Y—正
- ④ X—誤 Y—誤

問題3 次の【説明文】を読み、設問（問1～問7）に答えよ。

【説明文】

近世の三大飢饉に数えられる a 享保の飢饉は、冷害を主因とする b 天明（1781～1789年）の飢饉、c 天保（1830～1844年）の飢饉と異なり、主に（ア）の被害によって西日本の稲作が深刻な打撃を受けたものであった。稲汁を吸い尽くす（ア）は、湿田など水気の多い田が夏の暑気に蒸される場所で大発生しやすかった。

近世では、地域ごとに違いはあるが、全国的に虫送り・虫追いが行われていた。日没後に村人が集まり、藁でこしらえた人形や虫・蛇などを持ち、松明をともし、旗や毛槍・吹き流しなどを掲げ、かね鉦や太鼓・笛・ほら貝などを鳴らしながら大声を立てて（声を立てずに進むところもある）田の畦や作場道をねり歩き、村境から藁形を追い出したり、川や海に流したりする行事である。近世には害虫の大発生は神仏の怒りや怨霊の祟りからくるという考え方があり、百姓は害虫駆除を神仏にひたすら祈願した。ただし、d 大蔵永常は虫送りについて、松明の火に虫を集めて焼き殺し、ほら貝・太鼓・鉦の音で鳥獣や虫を恐れさせるという、一定の防除効果を認めている。

e 『農業全書』には、種の消毒、防虫・殺虫効果のある粉末や液剤の散布、土壌の改良、虫が嫌う煙の発生、道具を使った虫の払い落としや捕殺などの防除法が記されている。

（木村茂光編『日本農業史』吉川弘文館 2010年 平野哲也「虫害対策と注油法」p.192-193より一部改変）

問1 説明文中の空欄（ア）（2箇所とも）にあてはまる最も適切な語句を、次の①～④のうちから1つ選べ。解答番号欄は

- ① スズメバチ ② アマガエル ③ ウンカ ④ ネズミ

問2 下線部aが起きたときに江戸幕府の将軍だった人が行ったこととして最も適切なものを、次の①～④のうちから1つ選べ。解答番号欄は

- ① 武家諸法度を改定し、殉死の禁止をした。
② 生類憐みの令を出した。
③ 旧里帰農令を出した。
④ 検見法を改めて定免法を取り入れた。

問3 下線部bの後に改革を行った人として最も適切なものを、次の①～④のうちから1つ選べ。

解答番号欄は

- ① 松平定信 ② 田沼意次 ③ 大岡忠相 ④ 新井白石

問4 下線部cの頃に活躍した人物と発表された作品の組み合わせとして最も適切なものを、次の①～④のうちから1つ選べ。解答番号欄は

- ① 俵屋宗達 — 『風神雷神図屏風』
 ② 十返舎一九 — 『浮世風呂』
 ③ 本居宣長 — 『万葉考』
 ④ 歌川広重 — 『東海道五十三次』

問5 下線部dが著したものとして最も適切なものを、次の①～④のうちから1つ選べ。解答番号欄は

- ① 慎機論 ② 広益国産考 ③ 大和本草 ④ 読史余論

問6 下線部eを著した人として最も適切なものを、次の①～④のうちから1つ選べ。解答番号欄は

- ① 二宮尊徳 ② 塙保己一 ③ 青木昆陽 ④ 宮崎安貞

問7 江戸時代の村の運営組織である村方三役の組み合わせとして最も適切なものを、次の①～④のうちから1つ選べ。解答番号欄は

- ① 百姓代・結・庄屋 ② 名子・組頭・被官 ③ 名主・組頭・百姓代
 ④ 名主・もやい・組頭

問題4 次の文章を読み、設問（問1～問11）に答えよ。

我が国の近代国家としての展開は、明治維新からの歩みによる。富国強兵を目的に明治政府により近代化が推し進められ、1889（明治22）年には大日本帝国憲法（明治憲法）が制定された。それは 天皇の名により制定され公布されたものであり、^a「大日本帝国ハ万世一系ノ天皇之ヲ統治ス」（第1条）との規定のように、絶対的な天皇主権主義が採用されていた。そして、「天皇ハ国ノ元首ニシテ 統治権ヲ総攬シ」（第4条）とされ、天皇の地位は「神聖ニシテ侵スベカラズ」（第3条）というものであった。^b 国民には、^c信教の自由や法律の範囲内での言論・出版・集会・結社の自由が認められるようになった。

^d1910年代から1920年代を中心に民主主義的な政治・社会・思想・文化などの状況がつくり出され、政党の活動が活発化し、議会政治の発達もみられるようになった。1925（大正14）年には 普通選挙制が実現した。^eしかし、昭和の時代に入ると、1929（昭和4）年の 世界的な大不況の影響を受けた社会不安のなかで、軍部がしだいに 政治の領域に介入するようになり、^f主導権をもって、^g対外膨張政策が進められていくようになる。その後日本は、中国大陸への軍事的な進出をきっかけとして、第二次世界大戦へと突入していった。

第二次世界大戦に敗戦した日本は、1945（昭和20）年8月、連合国から示された ポツダム宣言を受諾することとなった。^h

また日本社会の民主化の推進という点からも、明治憲法の改正が必要とされた。様々な憲法改正案が各政党や民間団体から出されるようになった。日本政府も松本烝治内務大臣を中心に改正案を作成したが、明治憲法を一部修正するにとどまるという内容であった。そこで、ⁱ連合国軍最高司令官総司令部（GHQ）はマッカーサー草案を作成し、日本政府に示した。^jこの草案に沿って日本政府原案が作成・発表され、さらに帝国議会の審議・修正を経て、^k日本国憲法は成立したのである。

問1 下線部aに関して、この憲法の性格として最も適切なものを、次の①～④のうちから1つ

選べ。解答番号欄は

- ① 民定憲法 ② 戦後憲法 ③ 欽定憲法 ④ 協約憲法

問2 下線部 b に関して、最も適切なものを、次の①～④のうちから 1 つ選べ。解答番号欄は

31

- ① 陸海軍の統帥権は、議会や内閣からも独立して天皇に直属していた。
- ② 天皇主権の下、立法・行政・司法の三権は一つに統合化されていた。
- ③ 天皇主権の下、枢密院がすべての権限を執行した。
- ④ 貴族院・衆議院のすべての議員は、天皇により任命されていた。

問3 下線部 c に関して、明治憲法によって、日本国民は、どのように位置づけられたのか。最も適切なものを、次の①～④のうちから 1 つ選べ。解答番号欄は

32

- ① 選民 ② 貧民 ③ 文民 ④ 臣民

問4 下線部 d に関して、こうした状況は何と呼ばれるか。最も適切なものを、次の①～④のうちから 1 つ選べ。解答番号欄は

33

- ① 文明開化
- ② 大正デモクラシー
- ③ 大正政変
- ④ 大政奉還

問5 下線部 e に関して、最も適切なものを、次の①～④のうちから 1 つ選べ。解答番号欄は

34

- ① この制度は、1925 年の公職選挙法の成立が根拠となっている。
- ② この制度は、満 25 歳以上の男性に衆議院議員の選挙権を認めたものである。
- ③ この制度は、満 20 歳以上のすべての男女に選挙権を認めたものである。
- ④ この制度は、衆議院第一党の立憲政友会総裁の原敬内閣によって実現された。

問6 下線部 f に関して、この歴史的な出来事は何と呼ばれるか。最も適切なものを、次の①～④のうちから 1 つ選べ。解答番号欄は

35

- ① 第 1 次石油危機 ② 世界恐慌 ③ 世界革命 ④ 満州事変

問7 下線部 g に関して、海軍青年将校の一团が首相官邸で犬養毅首相を射殺するという事件がおこった。この事件は何と呼ばれるか。最も適切なものを、次の①～④のうちから1つ選べ。

解答番号欄は

- ① 三・一五事件 ② 二・二六事件 ③ 四・一六事件
④ 五・一五事件

問8 下線部 h の宣言の内容に関して誤っているものを、次の①～④のうちから1つ選べ。解答

番号欄は

- ① 日本の武装解除 ② 連合国による管理 ③ 日本の条件付降伏
④ 日本の領土規定

問9 下線部 i に関して、GHQ から出された民主化政策として誤っているものを、次の①～④

のうちから1つ選べ。解答番号欄は

- ① エネルギー革命 ② 労働基本権の確立 ③ 財閥解体 ④ 農地改革

問10 下線部 j に関して、日本政府の原案を作成して発表した当時の内閣として、最も適切なもの

を、次の①～④のうちから1つ選べ。解答番号欄は

- ① 片山哲内閣 ② 田中角栄内閣 ③ 幣原喜重郎内閣
④ 鈴木貫太郎内閣

問11 下線部 k に関して、日本国憲法が公布・施行された年月日として、最も適切なものを、次

の①～④のうちから1つ選べ。解答番号欄は

- ① 1945（昭和20）年8月15日公布、1945（昭和20）年11月3日施行
② 1945（昭和20）年11月3日公布、1946（昭和21）年5月3日施行
③ 1946（昭和21）年11月3日公布、1947（昭和22）年5月3日施行
④ 1947（昭和22）年5月3日公布、1947（昭和22）年11月3日施行